

METİN İŞLEME

Günlerden bir gün köyümüzün tarlasına gezmeye çıkmıştım. Ağaçların yeşili, tarlalarının sarısı ve gökyüzünün mavisi ile her yer o kadar güzel görünüyordu ki... Çayırdı, çimendi, dağdı derken zamanın nasıl geçtiğini anlayamamıştım. Hava kararmaya başlayınca nereye gideceğimi bilemedim ve bu durumdan çok korkmaya başladım. Sanki tarla kenarında bulunan çalılıklar bir canavara dönüşmeye başlamıştı.

Gündüz saatlerinde duyduğum o kuş cıvıltıları bile kaybolmuştu. Ne yapacağımı bilmiyordum. Emin olduğum tek şey gelirken geçtiğim çayı geçmekti ama nasıl olacaktı? Çay ne taraftaydı? Biraz düşündükten sonra çayın ne tarafta olduğunu hatırladım ve çaya doğru gitmeye başladım. Kısa bir yürüyüşün ardından çayın yerini bulmuştum. Ama gene bir problem vardı. Ben gelirken bu çayda bu kadar çok su yoktu. Korkum daha da artmaya başladı. Etraftaki bir taşın üzerine oturup ne yapacağımı düşünmeye başladım. Sanırım karşıya geçmekten başka çarem de yoktu. Ama su çok fazlaydı. Yine de karşıya geçmek zorundaydım. Cesaretimi toplayıp çaydan geçmeye başladım.

Suyun soğukluğu dişlerimin bile titremesine sebep veriyordu. Ben karşıya geçmeye çalışırken birden köpek sesleri duymaya başladım. Anladım ki beni merak eden ailem aramaya çıkmıştı. Bir yandan köpekler havlıyor bir yandan da ben yerimi belli etmeye çalışıyordum. Sonunda beni buldular. Annem hemen üstüne giydiği hırkayı üstüme örttü. Sanırım o da benim kadar korkmuştu. Hemen eve gittik. Evde ıslanan elbiselerimi değiştirdim. Isınmak için hemen yatağıma geçtim. O günden sonra bu kadar uzak yerlere tek başıma gitmemeyi öğrenmişim. En azından tek başıma gitmemeyi...

Aşağıdaki soruları yukarıdaki metne göre cevaplayınız.

1) Sizce hikâyenin başlığı ne olmalıdır?



2) Yazar neyden korkmuş, korktuğu şeyi niçin canavara benzetmiştir?



3) Yazar eve gitmek için nerden geçmesi لازمmış?



4) Yazar bulunduktan sonra neye karar vermiştir?



5) Yazar doğayı nasıl betimlemiştir?



ÇARPMA İŞLEMİ

Aşağıdaki çarpma işlemlerini yapınız.

		2	3	1
	x		2	5
<hr/>				
+				
<hr/>				

		3	4	4
	x		3	4
<hr/>				
+				
<hr/>				

		1	9	8
	x		4	2
<hr/>				
+				
<hr/>				

		2	5	7
	x		4	6
<hr/>				
+				
<hr/>				

		2	3	2
	x		4	6
<hr/>				
+				
<hr/>				

		2	2	3
	x		2	4
<hr/>				
+				
<hr/>				

		1	5	3
	x		1	4
<hr/>				
+				
<hr/>				

		2	2	3
	x		4	3
<hr/>				
+				
<hr/>				

		2	0	8
	x		2	4
<hr/>				
+				
<hr/>				

		3	4	2
	x		1	4
<hr/>				
+				
<hr/>				

		3	2	1
	x		3	5
<hr/>				
+				
<hr/>				

		3	1	0
	x		2	0
<hr/>				
+				
<hr/>				

		1	4	2
	x		2	3
<hr/>				
+				
<hr/>				

		4	2	1
	x		4	6
<hr/>				
+				
<hr/>				

		3	4	0
	x		3	2
<hr/>				
+				
<hr/>				

ÇARPANLARIN YER DEĞİŞTİRMESİ

Aşağıdaki çarpma işlemlerini örnekteki gibi yapınız.



$$(6 \times 5) \times 4 = 30 \times 4 = 120$$

$$6 \times (5 \times 4) = 6 \times 20 = 120$$

$$120 = 120$$



$$(7 \times 5) \times 4 = \dots\dots\dots$$

$$7 \times (5 \times 4) = \dots\dots\dots$$

$$\dots\dots\dots$$



$$4 \times (8 \times 6) = \dots\dots\dots$$

$$(6 \times 4) \times 8 = \dots\dots\dots$$

$$\dots\dots\dots$$



$$(9 \times 5) \times 8 = \dots\dots\dots$$

$$9 \times (5 \times 8) = \dots\dots\dots$$

$$\dots\dots\dots$$

ZARARLI MADDELERE KARŞI SORUMLULUK ALALIM

Fatma, sigaranın zararları konusunda bir afiş hazırlamak istiyor. Fatma, hazırladığı afişlere hangi isimleri vermiş olabilir, işaretleyiniz.


Dumansız Hava Sahası



Sigara ile Damarlar Açılır




Sigara ile Daha Sağlıklıyım




Duman Adres Sormaz



Akciğerim Nefes Kaynağım



Sigarasız Hayat Bizim Olsun



ZARARLI MADDELERE KARŞI SORUMLULUK ALALIM

Aşağıda verilen ifadeler doğru ise "D" yanlış ise "Y" kutucuğunu işaretleyiniz.

D - Y

Sigara, gırtlak ve akciğer kanserine neden olur.		
Alkol uyku düzenini normale sokar.		
Alkol kullanımı ile denge sorunları ortaya çıkar.		
Sigara içenlerin yanında durmak bize zarar vermez.		
Sigara ile damarlarda daha iyi kan akışı olur.		
Aşırı alkol geçici hafıza kaybına sebep verir.		
Sigara içerek dişlere büyük zarar vermiş oluruz.		
Alkole hayır demeyi öğrenmemiz gerekir.		



Aşağıdaki boşlukları haritaya göre doldurunuz.

- 1) Ülkemizin en Karadeniz Bölgesi vardır.
- 2) Akdeniz ülkemizin yer alır.
- 3) Marmara Bölgesi İç Anadolu Bölgesi'nin yer alır.
- 4) Ege Bölgesi Doğu Anadolu Bölgesi'nin yer alır.

Aşağıda verilen ifadeler doğru ise başına "D" yanlış ise "Y" yazınız.

- a) () Dört ana yön ve dört ara yön vardır.
- b) () Gündüz saatlerinde Kutup Yıldızı'ndan yararlanılabilir.
- c) () Ülkemizde camii minare kapıları kuzey yönünü gösterir.
- d) () Karınca yuvalarının toprak birikintisi kuzey yönünü gösterir.
- e) () Güneş'in doğduğu yere yüzümüzü döndüğümüzde sağ kolumuz güneyi gösterir.